



وزارة التربية والتعليم
مكتب الوكيل المساعد للتعليم العام

نموذج الإجابة

الفترة الدراسية الثانية

العام الدراسي : 2015 / 2016 هـ



العام الدراسي : ٢٠١٥ / ٢٠١٦ م
الزمن : ساعتان وربع
عدد الأوراق : (٧)

امتحان نهاية الفترة الدراسية الثانية
مادة الاجتماعيات (الوطن العربي)
الصف العاشر

وزارة التربية
التوجيه الفني العام للاجتماعيات

أجب عن أربعة أسئلة مما يلي على أن يكون السؤال الأول من بينها إجباري

السؤال الأول (إجباري) و يتكون من (ا - ب - ج - د - هـ) : $\frac{1}{4} \times 26 = 13$ درجة

(أ) ضع خطاً تحت العنصر المناسب من بين الخيارات التي تلي كل عبارة مما يلي :-


- ١ - أقل الدول العربية في حجم قوة العمل عام ٢٠٠٢م : ص ٥٥
(الإمارات - البحرين - السعودية - العراق)
- ٢ - الدائرة البيانية التي تمثل نسبة إنتاج الوطن العربي من النفط بالنسبة للإنتاج العالمي عام (٢٠٠٣م) : ص ٦٨




د



ج



ب



أ

٣- من الواردات العربية : ص ٧٦

(مصادر الطاقة - مواد خام زراعية - سلع صناعية - أسمدة كيميائية)

٤- المنطقة التي ظهرت بها إمارة الحيرة (المناذرة) قبل الإسلام : ص ٨٩

(أطراف العراق - بادية الشام - بلاد اليمن - هضبة نجد)

٥- العالم المسلم الذي ألف كتاب " الجبر و المقابلة " : ص ٩٩

(ابن رشد - ابن سينا - الخوارزمي - الرازي)

٦- مؤسس الدولة العثمانية : ص ١٠٠

(عبدالحميد الثاني - عثمان بن أرطغرل - سليمان القانوني - مراد الأول)



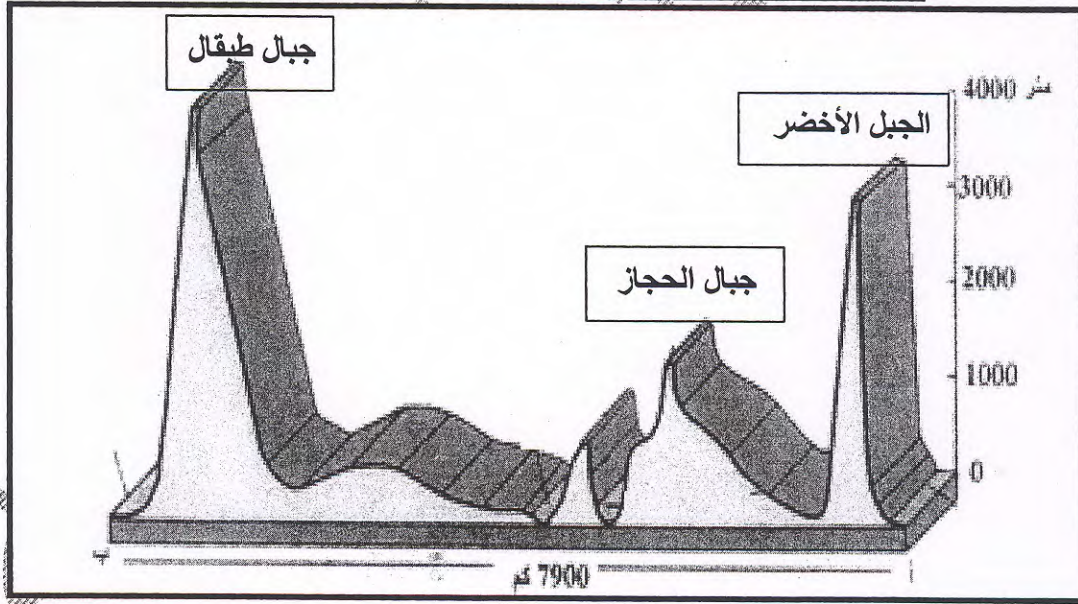
تابع السؤال الأول : (إجباري)

(ب) أكمل العبارات التالية بما يناسبها فيما درست :-

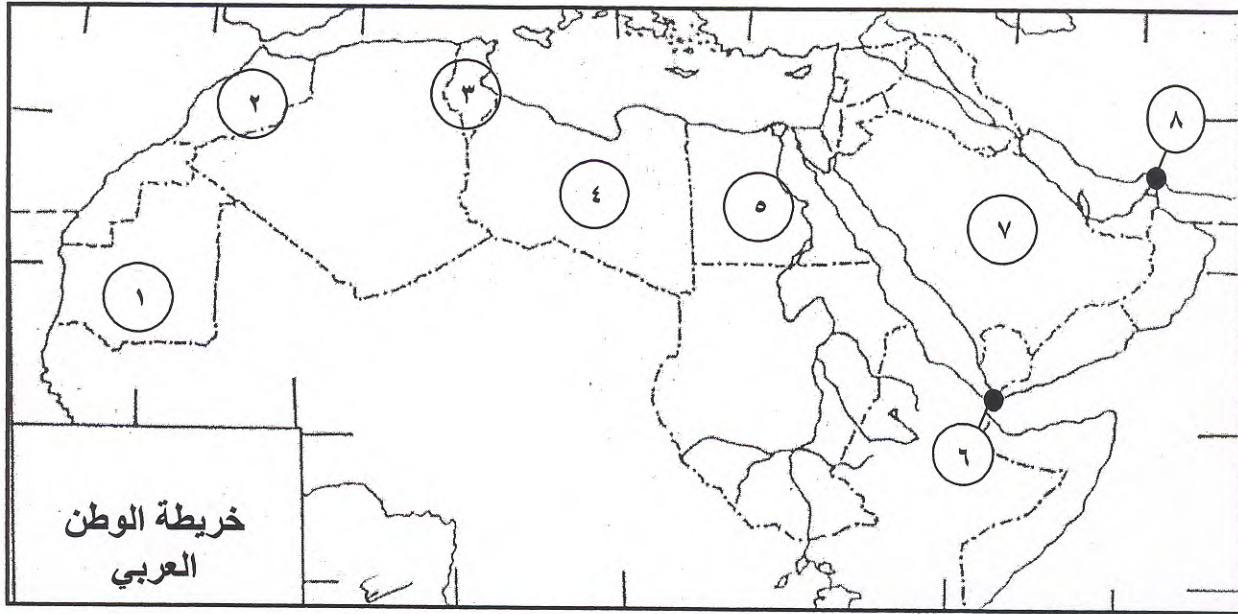
- ١- السلالة البشرية التي ينتمي إليها أغلب سكان الوطن العربي تسمى القوقازية ص ٤٤
- ٢- أشهر سدود منطقة جنوب غرب شبه الجزيرة العربية يسمى سد مأرب ص ٨٥
- ٣- المعركة التي انتصر بها السلطان العثماني سليم الأول على السلطان طوماي باي عام ١٥١٧م تسمى الريدانية ص ١٠١
- ٤- أول صحيفة عربية أنشأت في القاهرة في النصف الثاني من القرن التاسع عشر تسمى التنبيه ص ١٠٤
- ٥- الدولة العربية التي اتخذت فرنسا من "حادثة المروحة" حجة لاحتلالها تسمى الجزائر ص ١١٠
- ٦- حاكم المغرب الذي حصلت بلاده على استقلالها في عهده عام ١٩٥٦م اسمه محمد الخامس ص ١١٣

(ج) اكتب كل من الجبال التالية في المربع المناسب لها :- ص ٢٥

((جبال طبقال - الجبل الأخضر - جبال الحجاز))



د) لاحظ خريطة الوطن العربي الصماء التي أمامك ثم اكتب الرقم الدال على كل مما يلي :-



* مضيق هرمز على الخريطة يمثل الرقم (٨) ص ١٤

* أولى الدول العربية في إنتاج الزيتون عام ١٩٩٦ م على الخريطة يمثلها الرقم (٣) ص ٦٤

* أولى الدول العربية في الإنتاج اليومي للنفط عام (٢٠٠٣م) على الخريطة يمثلها الرقم (٧) ص ٦٩

* أولى الدول العربية في إنتاج الفوسفات على الخريطة يمثلها الرقم (٢) ص ٧٣

* الحضارة الفرعونية على الخريطة يمثلها الرقم (٥) ص ٨٨

هـ) ظلل العنصرين المناسبين من بين الخيارات التي تلي كل عبارة مما يلي :-

١- نباتات إقليم المناخ الصحراوي : ص ٣٥

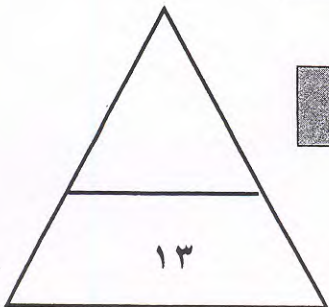
العرفج	الأبنوس	النخيل	البنج
--------	---------	--------	-------

٢- دول استعمارية أجنبية احتلت الصومال : ص ١١١

أسبانيا	إيطاليا	بريطانيا	هولندا
---------	---------	----------	--------

٣- محاصيل نقدية في الوطن العربي: ص ٦٢

قصب السكر	كروم	تمور	قطن
-----------	------	------	-----

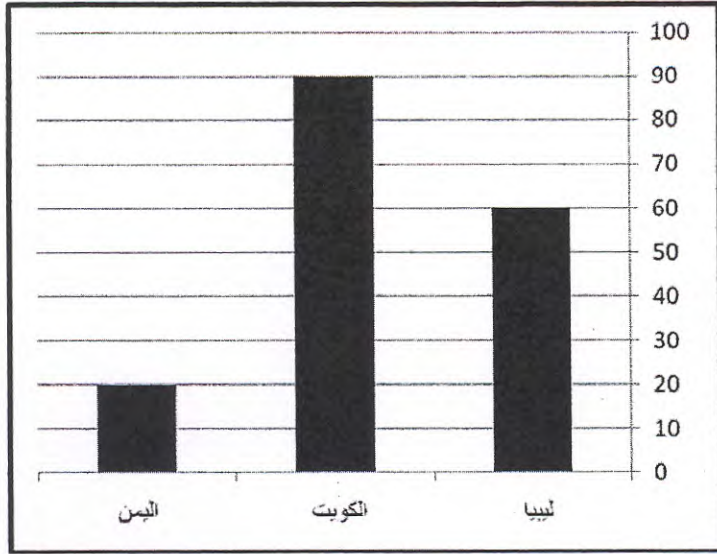


درجة السؤال الأول



السؤال الثاني : (اختياري) ويتكون من (أ - ب - ج) :

أ) ادرس جدول إنتاج الغاز المسيل في بعض الأقطار العربية لعام (٢٠٠٢م) ثم نفذ المطلوب :- ص ٧١



القطر	الإنتاج بالآلاف برميل /يوم
تونس	٣
ليبيا	٦٠
الجزائر	٨٠٥
الكويت	٩٠
السعودية	٨٠٠
اليمن	

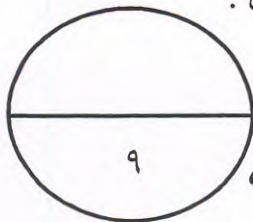
- ١- حول إنتاج كل من (الكويت / ليبيا / اليمن) إلى أعمدة بيانية .
درجتين (نصف درجة لرسم المحورين ونصف درجة لكل عمود)
- ٢- استخراج حقيقة من الجدول .

تعتبر دولة الجزائر أولى الدول العربية في إنتاج الغاز (أو أي حقيقة صحيحة يكتبها الطالب) درجة واحدة
ب) فرق بين كل مما يلي حسب المطلوب في الجدول :- (يكتفي بنقطتين من كل نوع) (درجتان)

أنواع العمليات الخارجية ص ٢٢، ٢٣	أنواع العمليات الداخلية ص ٢٠
(مثل العمليات التجوية و عملية الانهيارات الأرضية والنحت والمياه والرياح)	وهي اما عمليات سريعة مثل الزلازل والبراكين أو بطيئة مثل التآوهات والانكسارات

ج) اكتب مما درست فيما يلي :- (يكتفي بنقطتين بند)

- ١- الأسس التي وضعها الرسول صلى الله عليه وسلم لإقامة دولته في المدينة المنورة . (درجتان) ص ٩٢
 - * بناء المسجد .
 - * المواخاة بين المهاجرين والأنصار .
 - * وضع الصحيفة .
- ٢ - التقسيمات الاجتماعية التي كانت سائدة في المجتمع العربي أثناء الحكم العثماني . (درجتان) ص ١٠٢-١٠٣
 - * مشايخ القبائل والأمراء والإقطاعيون والأسر الحاكمة .
 - * فنة العلماء ورجال الدين .
 - * التجار .
 - * الفلاحون والحرفيون .



درجة السؤال الثاني




السؤال الثالث : (اختياري) ويتكون من (ا - ب - ج)

أ) اقرأ الفقرة التالية ثم اجب عما يليها مستعينا بالنص ومما درست :-

" مع بداية العصر الحديث تطلعت الدول الأوروبية لاحتلال دول الوطن العربي وذلك لاستغلال خيرات الشعوب العربية ، وقد تمكنت هذه الدول من تحقيق أهدافها بالسيطرة على معظم أجزاء الوطن العربي سواءً باستخدام القوة العسكرية أو عن طريق عقد المعاهدات السياسية أو الانتداب ."

- ١- عرف ما تحته خط : (الانتداب) درجة ص ١٠٩
هو نظام استعماري ظهر بعد انتهاء الحرب العالمية الأولى عام ١٩١٩م وانتدبت بموجبه بعض الدول الاستعمارية المنتصرة في الحرب لإدارة شؤون الأقطار التي كانت تحت الحكم العثماني أو الألماني .
- ٢- علل : حرص دول أوروبا الاستعمارية في السيطرة على دول الوطن العربي . (يكتفي بنقطتين ، درجة ص ١١١-١١٢)
 - * استغلال خيرات الشعوب والسيطرة على المواد الخام .
 - * السيطرة على المواقع الاستراتيجية المؤدية إلى المستعمرات
 - * نشر الثقافة الاستعمارية بين الشعوب المستعمرة
 - * حماية البعثات التبشيرية .
 - * الأسباب الداخلية في البلاد الاستعمارية
 - * انتشار الجهل بين المستعمرات نفسها .
- ٣- اكتب : أساليب الاستعمار في حكم الدول العربية . (يكتفي بنقطتين ، درجة ص ١١٢)
 - * القوه العسكرية
 - * أسلوب الهيمنة الإدارية على المستعمرات .
 - * استخدام اعنف أساليب القمع والتعذيب والقوه
 - * تخذيه أساليب الشقاق والفرقة والنعرات العنصرية والسياسية والطائفية بين أفراد الشعب الواحد
 - * زرع الكيان الصهيوني في فلسطين كي يضمن عدم توحيد العرب

ب) استعن بالرسم الذي أمامك في تفسير ما يلي :- ص ٢٩ (درجتين)



- ١- غزارة الأمطار في المنطقة (أ) .
لأن هذه المرتفعات تشكل حاجزاً أمام الرياح الممطرة فتؤدي إلى سقوط الأمطار في الجزء المواجه لهذه الرياح .
- ٢- وجود أراضي جافة (صحاري) في المنطقة (ب) .
المناطق الداخلية والتي تقع في ظل الجبال يصلها الجزء البسيط من هذه الأمطار .

ج) ما النتائج المترتبة على كل من :-

- ١- الموقع الاستراتيجي المتميز للوطن العربي . ص ١٧ يكتفي نقطتين (٢ درجات)
 - * تحكم في مداخل البحار عن طريق مضيق جبل طارق وقناة السويس ومضيق هرمز .
 - * لا يزال همزه وصل بين الشرق والغرب .
 - * اكتسب أهمية كبرى
 - * تقطعه الطرق التجارية والبرية والبحرية والجوية . * طمع الدول الكبرى به منذ القدم .
- ٢ - اهتمام دول الوطن العربي بالصناعة كمورد اقتصادي . ص ٧٣ يكتفي نقطتين (٢ درجات)
 - * زيادة القيمة الاقتصادية المضافة للموارد الاقتصادية الزراعية والمعدنية .
 - * إيجاد فرص عمل جديدة للعمالة الوطنية .
 - * تأمين وتوفير احتياجات السكان من المنتجات الصناعية المختلفة .
 - * أتاحة الفرص لاستثمار رؤوس الأموال العربية داخل وطننا العربي . درجة السؤال الثالث



السؤال الرابع : (اختياري) ويتكون من (أ - ب - ج)

أ) قارن بين كل من طبقا للجدول التالي :- (٣ درجات) ص ٣٠ - ٣١ - ٣٢

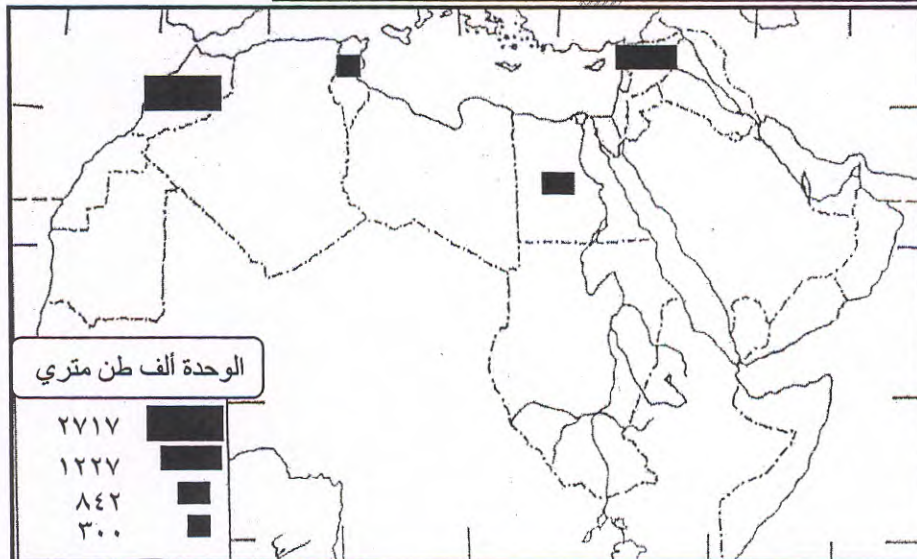
المعايير	إقليم المناخ الصحراوي	إقليم المناخ المداري
المميزات يكتفى بنقطة درجة لكل إقليم	* تصل درجة الحرارة ٥٠ وأكثر صيفا ثم تنخفض إلى الصفر شتاء . * ارتفاع المدى الحراري اليومي والسنوي . * تفوق معدلات التبخر. * يتميز بجفافه وندرة الأمطار. * يقع ضمن مناطق الضغط المرتفع.	* ترتفع فيه درجة الحرارة باستمرار عن ٢٠ ويبلغ أقصاها في الصيف * إمتارها صيفيه تتراوح كميتها حوالي ٣٠٠ - ٥٠٠ ملليمتر سنويا
أوجه الشبه	* أقاليم مناخية في الوطن العربي . * أقاليم تتميز بارتفاع درجة الحرارة * تنتشر في اليمن ، عمان ، الصومال ، السودان موريتانيا . أي شبه آخر صحيح . يكتفى بنقطة	

ب) علل ما يلي :-

- ١- تعتبر دراسة السكان من الدراسات الجغرافية المهمة . ويكتفى بنقطتين (درجتان) ص ٤٤
* لأنها تكشف لنا عن أصولهم العرقية
* توزيعهم الجغرافي و كثافتهم
* تساعد على تفادي السلبيات ودعم الإيجابيات
* وتكشف عن معدلات نموهم .
* حجم قوة العمل .

- ٢ معارضة قريش للدعوة الإسلامية . ص ٩١ (درجتان) يكتفى بنقطتين
* بسبب تعصبهم بشدة لتقاليدهم وعاداتهم الموروثة . * سب النبي ﷺ أصنامهم واحتقرها وهاجم الأوثان.
* التنظيم السياسي الذي عرف في مكة كان سببا لوقوف قريش ذلك الموقف العدائي .
* خوف رؤساء العشائر من أن يصبح النبي ﷺ زعيما بلا منازع وأن تقر أسن عشيرته بطون قريش.

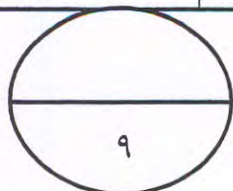
ج) لاحظ خريطة الوطن العربي لإنتاج البنجر عام ١٩٩٦م ثم نفذ المطلوب :- ص ٦٣



رتب الدول العربية المنتجة للبنجر
في الجدول التالي ترتيبا تنازليا
(درجتان)



المغرب	سوريا	مصر	تونس
--------	-------	-----	------



درجة السؤال الرابع

السؤال الخامس : (اختياري) ويتكون من (أ - ب - ج)

(أ) اقرأ المعطيات التالية ثم نفذ المطلوب منك :- (درجتان) ص ٤٦

لبنان دولة عربية معدل المواليد فيها يبلغ (١,٩ %) ومعدل الوفيات يبلغ (٠,٥ %).
احسب نسبة معدل النمو الطبيعي في لبنان .

* القانون : معدل النمو الطبيعي = معدل المواليد - معدل الوفيات (درجة)

* التطبيق : نسبة معدل النمو الطبيعي في لبنان = $١,٩\% - ٠,٥\% = ١,٤\%$ (درجة)

ب - عرف ما يلي :- (٣ درجات)

- ١- سهول فيضية : هي السهول التي تشكلت بسبب الترسيبات النهرية وتتميز باستوائها وخصوبتها. ص ٢٦
- ٢- تجارة بينية : هي حركة التبادل التجاري بين الاقطار العربية . ص ٧٦
- ٣- مجوسية : هي عبادة النار . ص ٩٠

ج) اكتب دور كل من :- يكتفى بنقطين لكل بند

١ - الغطاء النباتي على المناخ في الوطن العربي . (درجتان) ص ٣٠
* كلما زادت كثافة الغطاء النباتي قلت كمية الحرارة التي تمتصها الأرض ثم تعكسها وبذلك تقل درجة الحرارة نسبياً.
* ترتفع درجة الحرارة في المناطق التي تقل فيها الكثافة النباتية أو خالية من النباتات.
* يحد من دور الرياح الحارة الجافة التي بدون هذه النباتات ستنشط في نقل المعتمات الرملية وإثارة العواصف الترابية .

٢ - الكنعانيون (الفينيقيون) في ازدهار الحضارة الإنسانية . (درجتان) ص ٨٧

* ساهموا في ازدهار مدينة قرطاج (ساحل شمال أفريقيا).

* استخراج الصبغة الحمراء الإرجوانية.

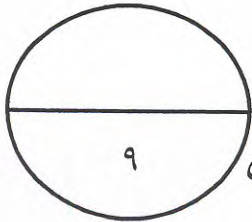
* برعوا في صناعة النسيج والحريز والزجاج والفخار .

* اخترعوا الحروف الأبجدية.



انتهت الأسئلة

بالتوفيق والنجاح,,,,,



درجة السؤال الخامس